


## دہائی کھول کر تفریق کریں



مجھے ۲۵ پینسل چاہیے۔



مجھے ۲۰ پینسل  
چاہیے۔



کیسے دی  
جائیں؟



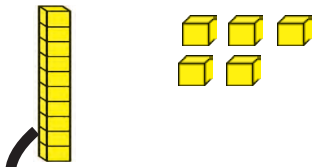
مجھے ۴ پینسل چاہیے۔

**رضیہ :** میرے پاس ۱۰ پینسل کے دو بکس اور ۵ پینسل ہیں۔ ان میں سے ۷ پینسل سہیلی کو دینی ہیں۔  
کیسے دی جائیں؟

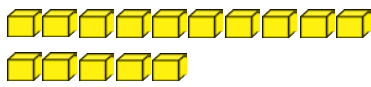
**شاہد :** ایک بکس کو کھٹا کر دو۔ تمہارے پاس ۱۰ اور ۵ اس طرح سے ۱۵ کھلی پینسل ہوں گی۔ ان میں سے ۷ پینسل اپنی سہیلی کو دے دو۔

یعنی ۱۵

۵ اکائی ۱ دہائی



۱ دہائی کھولنے پر



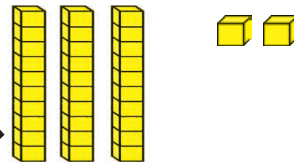
۱۵ اکائی

۵ اکائی ۱ دہائی

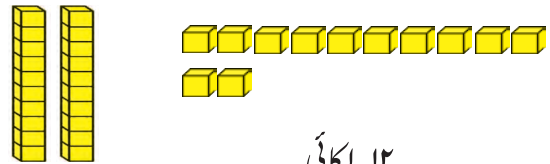
یعنی ۱۵ اکائی

یعنی ۳۲

۲ اکائی ۳ دہائی



۱ دہائی کھولنے پر



۲ دہائی

۲ اکائی ۳ دہائی

یعنی ۱۲ اکائی ۲ دہائی



تفریق : دہائی کھول کر۔

$$۲۲ - ۷ = \square$$

دہائی	اکائی
۱	۱۲
-	۷
-----	
۱	۵

$$۲۲ - ۷ = ۱۵$$

$$۳۰ - ۹ = \square$$

دہائی	اکائی
۲	۱۰
-	۹
-----	
۲	۱

$$۳۰ - ۹ = ۲۱$$

$$۶۳ - ۶ = \square$$

دہائی	اکائی
۵	۱۳
-	۶
-----	
۵	۷

$$۶۳ - ۶ = ۵۷$$

دہائی کھول کر تفریق کرو۔

$$۲۳ - ۵ = \square$$

دہائی	اکائی
۱	۱۳
-	□
-----	
۱	□

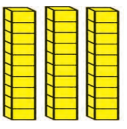

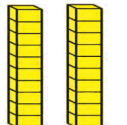

$$۲۵ - ۸ = \square$$

دہائی	اکائی
□	□
-	□
-----	
□	□

$$۳۷ - ۹ = \square$$

دہائی	اکائی
□	□
-	□
-----	
□	□

۱۷ - ۳۵ کو ہم نیچے دیے ہوئے طریقے سے حل کریں گے۔

دہائی	اکائی	
		۱۵ ۳ د
		۱۵ ۲ د

دہائی	اکائی
۲	۱۵
<del>۳</del>	<del>۵</del>
-	۷
۱	۷
۱	۸

جمع یا تفریق کا عمل کرتے وقت سہولت کے لیے کچھ دیر ہم اکائی کے خانے میں ۹ سے بڑا عدد رکھتے ہیں لیکن عمل کے مکمل ہونے پر اکائی کے خانے میں ۹ سے بڑا عدد لکھا نہیں جاتا، یہ طلبہ کو سمجھائیں۔

برائے اساتذہ :



## دہائی کھول کر تفریق کرو۔

$12 - 9 = \square$

$30 - 12 = \square$

$51 - 18 = \square$

$26 - 12 = \square$

$83 - 59 = \square$

$42 - 25 = \square$

دہائی	اکائی
۲	۰
۱	۱

دہائی	اکائی
۶	۷
۲	۹

دہائی	اکائی
۹	۲
۵	۳

● ماریہ نے ۴۳ درختوں میں سے ۲۷ درختوں کو پانی دیا۔ اب کتنے درختوں کو پانی دینا باقی ہے؟

کیا دیا گیا ہے؟ کل درخت ۴۳ - ۲۷ درختوں کو پانی دیا گیا۔

کیا پوچھا گیا؟ کتنے درختوں کو پانی دینا باقی ہے۔

کیا کرنا ہے؟ تفریق



۴۳ میں سے ۲۷

تفریق کریں گے۔

دہائی	اکائی
۳	۱۳
۵	۶
۲	۷
۱	۶

کل درخت

درختوں کو پانی دیا گیا

درختوں کو پانی دینا باقی ہے



۳ اکائی میں سے ۷ اکائی

تفریق نہیں کر سکتے اس لیے ۱ دہائی کھولیں

گے۔ پھر ۱۳ الگ الگ ہو جائیں گے۔

● ایک ریاضی کھیل کی جالی میں ہرے اور لال رنگ کے کُل ملا کر ۷۰ پیادے رکھے گئے ہیں۔ ہرے رنگ کے ۴۲ پیادے

ہیں۔ لال رنگ کے پیادے کتنے؟

● سمیرہ کے پاس ۹۲ منکے تھے۔ ان میں سے ۵۹ منکے اس نے نمیرہ کو دیے۔ اب سمیرہ کے پاس کتنے منکے باقی بچے

ہوں گے؟

● ماں نے دیوالی پر ۶۷ لڈو اور ۴۸ انارسا بنائے تو بتاؤ لڈو کے مقابلے میں انارسا کتنے کم ہیں؟

● ثقافتی پروگرام میں ضلع پریشدا سکول کے ۸۱ طلبہ میں سے ۷۸ طلبہ نے حصہ لیا تو بتاؤ کتنے طلبہ نے ثقافتی پروگرام

میں حصہ نہیں لیا؟

