




धारकता मोजूया

* ज्या भांड्यात जास्त पाणी मावेल त्याखालील चौकट रंगव.



यश आणि रमा स्वयंपाकघरातून वेगवेगळी भांडी घेऊन आले. त्यांच्याजवळ एक मग, एक बादली, एक ग्लास होता.

त्यांनी ही सगळी भांडी एक  वापरून पाण्याने भरली.




यश : रमा सांग पाहू, कोणत्या भांड्यात सगळ्यात जास्त पाणी मावले ?

रमा :

आता तू सांग पाहू, कोणत्या भांड्यात सगळ्यात कमी पाणी मावले ?




यश :



वरीलप्रमाणे निरनिराळ्या आकाराची भांडी वापरून कृती करून घ्यावी.



चला कृती करूया : तुम्ही तुमच्या स्वयंपाकघरातून वेगवेगळ्या प्रकारची भांडी जमा करा. ही सगळी भांडी पाण्याने भरण्यासाठी एकच वाटी वापरा. प्रत्येक भांड्यात किती वाट्या पाणी मावेल याचा अंदाज करा आणि मग प्रत्यक्ष पाणी भरून अंदाज तपासा.

कोणते भांडे भरले?	हे भरायला अंदाजे किती वाट्या पाणी लागेल?	हे भरायला प्रत्यक्ष किती वाट्या पाणी लागले?
		
		
		
		

कृती :

खोकल्याच्या औषधाच्या बाटलीच्या झाकणावर प्लास्टिकचे एक लहान झाकण येते. त्या झाकणाने औषध मोजून घेतात. एक ग्लास किंवा एक कप घ्या. त्यात किती झाकणे पाणी मावते हे पाहा.

