


वजाबाकीसाठी दशक सुटा करू

प्रत्येक डब्यात १० पेन्सिली आहेत.



मला २०
पेन्सिली हव्या
आहेत.



मला २५ पेन्सिली
हव्या आहेत.



मला ४ पेन्सिली
हव्या आहेत.



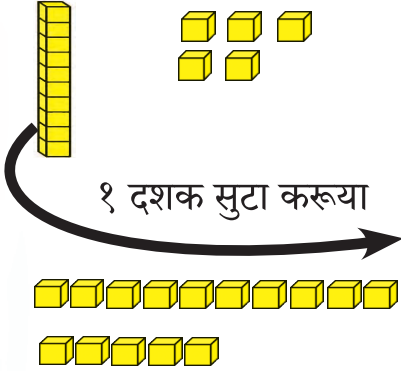
कशा देता
येतील?

रमा : माझ्याकडे १० पेन्सिलींच्या दोन पेट्या आणि ५ पेन्सिली आहेत. त्यातल्या ७ पेन्सिली मैत्रिणींना द्यायच्या आहेत, कशा देऊ बरं ?

यश : एक पेटा मोकळी करून घे. तुझ्याजवळ १० आणि ५ अशा सुट्या १५ पेन्सिली असतील, त्यातील ७ पेन्सिली तू मैत्रिणींना दे.

१५ म्हणजेच

१ दशक ५ एकक



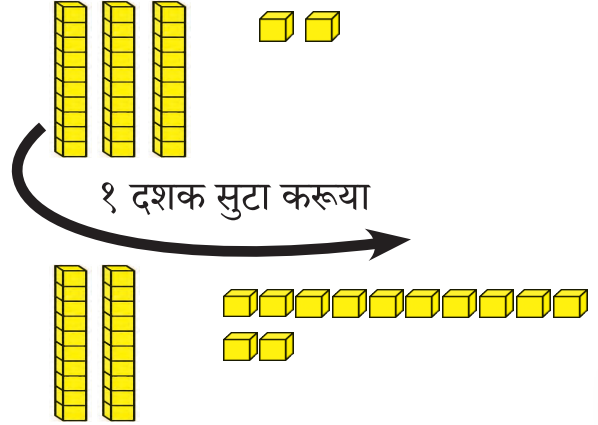
१५ एकक

१ दशक ५ एकक म्हणजेच

१५ एकक

३२ म्हणजेच

३ दशक २ एकक



२ दशक १२ एकक

३ दशक २ एकक म्हणजेच

२ दशक १२ एकक



वजाबाकी : दशक सुटा करून.

$$२२ - ७ = \square$$

	दशक	एकक
	१	१२
-		७
<hr/>		
	१	५

$$२२ - ७ = \boxed{१५}$$

$$३० - ९ = \square$$

	दशक	एकक
	३	१०
-		९
<hr/>		
	२	१

$$३० - ९ = \boxed{२१}$$

$$६३ - ६ = \square$$

	दशक	एकक
	६	१३
-		६
<hr/>		
	६	७

$$६३ - ६ = \boxed{५७}$$

दशक सुटा करून वजाबाकी कर.

$$२३ - ५ = \square$$

	दशक	एकक
	१	१३
-		<input type="text"/>
<hr/>		
	१	<input type="text"/>



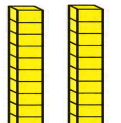

$$२५ - ८ = \square$$


	दशक	एकक
	<input type="text"/>	<input type="text"/>
-		<input type="text"/>
<hr/>		
	<input type="text"/>	<input type="text"/>

$$३७ - ९ = \square$$

	दशक	एकक
	<input type="text"/>	<input type="text"/>
-		<input type="text"/>
<hr/>		
	<input type="text"/>	<input type="text"/>

३५ - १७ ही वजाबाकी आपण खालीलप्रमाणे मांडणी करून करूयात.

दशक	एकक		दशक	एकक
			२	१५
		३ द ५ ए	३	५
		२ द १५ ए	-	७
			१	८



बेरीज किंवा वजाबाकी करताना थोडा वेळ सोईसाठी एककाच्या घरात ९ पेक्षा मोठी संख्या आपण ठेवतो, पण सगळे काम झाले की एककाच्या घरात ९ पेक्षा मोठी संख्या लिहायची नसते, हे विद्यार्थ्यांना समजावून सांगावे.



दशक सुटा करून वजाबाकी कर.

दशक	एकक
४	०
— १	१

दशक	एकक
६	७
— २	९

दशक	एकक
९	२
— ५	३

$$\begin{aligned} १७ - ९ &= \square \\ ३० - १२ &= \square \\ ५१ - १८ &= \square \\ ४६ - १७ &= \square \\ ८३ - ५९ &= \square \\ ७४ - २५ &= \square \end{aligned}$$

- भावनेने ४३ झाडांपैकी २७ झाडांना पाणी दिले. आता किती झाडांना पाणी द्यायचे राहिले ?

काय दिले आहे ? एकूण झाडे ४३ आहेत. २७ झाडांना पाणी दिले.

काय विचारले आहे ? किती झाडांना पाणी द्यायचे राहिले.

काय करूया ? वजाबाकी



४३ मधून २७
वजा करू



३ एककातून ७ एकक वजा करता येत नाहीत. म्हणून १ दशक सुटा करू. मग १३ सुटे होतात.

दशक	एकक
३	१३
— ४	३
२	७
१	६

एकूण झाडे
झाडांना पाणी दिले
झाडांना पाणी द्यायचे आहे.

- गणिती जाळीमध्ये हिरव्या व लाल रंगाच्या मिळून ७० सोंगट्या बसविल्या आहेत. हिरव्या रंगाच्या ४२ सोंगट्या आहेत. लाल रंगाच्या सोंगट्या किती ?
- स्वराकडे ९२ मणी होते. त्यांतील ५९ मणी तिने परीला दिले. आता स्वराकडे किती मणी उरले असतील ?
- आईने दिवाळीला ६७ करंज्या व ४८ अनारसे केले. करंज्यांपेक्षा अनारसे किती कमी आहेत ?
- स्नेहसंमेलनात जिल्हा परिषदेच्या शाळेतील ८१ विद्यार्थ्यांपैकी ७८ विद्यार्थ्यांनी सहभाग घेतला, तर किती मुले संमेलनात सहभागी झाली नव्हती ?

