

बेरीज - पुढे मोजून

शिक्षक : सलमा, ही दोन रोपं घे, तुझ्या अंगणात लाव.

सलमा : नक्की, माझ्या घरी आधीच ५ रोपं लावली आहेत.

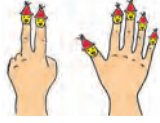
शिक्षक : व्वा छान! मुलांनो सलमाच्या अंगणात आता किती रोपे होतील ?

रमाची मोजणी

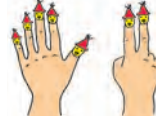


सात

२ बोटे + ५ बोटे



५ बोटे + २ बोटे



यशची मोजणी



सात

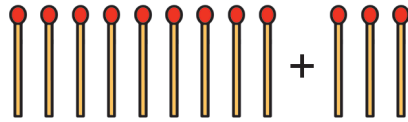
(रमाने १, २, ३... अशी ७ पर्यंत बोटे मोजली, तर यशने ५ च्या पुढे ६, ७ अशी दोनच बोटे मोजली)

शिक्षक : बेरीज दोघांचीही सारखी आणि बरोबरच आहे, परंतु चटकन बेरीज कुणाची झाली ?

यश : माझी झाली.

शिक्षक : समजा ९ काड्या आणि ३ काड्या यांची बेरीज करण्यासाठी त्या एकत्र केल्या आणि मोजल्या, तर उत्तर किती येईल ?

रमा : ते उत्तर आहे १२ काड्या ! मी १ पासून १२ पर्यंत मोजल्या.



शिक्षक : पण ९ च्या पुढे १०, ११, १२ अशा मोजल्या तरी उत्तर १२ येते. इथे ९ काड्या आपल्याजवळ आहेत असे मानून फक्त आणखी मिळालेल्या काड्या ओळीने पुढे मोजल्या.

यश : आपल्या जवळ ३ काड्या आहेत, ९ काड्या नव्या मिळाल्या तर ३ च्या पुढे ९ मोजूनही उत्तर १२ येते, पण ३ च्या पुढे ९ मोजण्याऐवजी ९ च्या पुढे ३ मोजणे सोपे !

पुढे मोजून बेरीज कर.

२५ + ३, ५ + ३८, ५ + १९, ४ + २३.



सोबत दिलेल्या चौकटींत १ पासून ५० पर्यंत संख्या क्रमाने लिही.

आता तुझी स्वतःची मोजायची टेप तयार झाली. तिचा उपयोग बेरीज करण्यासाठी कर. ८ व ९ यांची बेरीज करण्यासाठी ८ या अंकावर बोट ठेव. त्याच्यापुढे ९ घरे मोज. १७ ही संख्या आली का ? म्हणजे ८ व ९ यांची बेरीज १७ आली.

- पुढे मोजून बेरीज करा.
- रमाजवळ १८ चिंचोके आणि यशजवळ ७ चिंचोके तर दोघांजवळ मिळून किती चिंचोके ?

काय दिले आहे ? रमाचे व यशचे चिंचोके
काय विचारले आहे ? एकूण चिंचोके
काय करूया ? बेरीज

+	

रमाचे चिंचोके
यशचे चिंचोके
एकूण चिंचोके

- आनंदजवळ २७ स्टिकर्स आहेत, त्याने आणखी ५ स्टिकर्स विकत घेतले. आता त्याच्या जवळ किती स्टिकर्स झाले ?

काय दिले आहे ? _____
काय विचारले आहे ? _____
काय करूया ? _____

+	

- पुढे मोजून बेरीज कर.

१	२
+	५

१	५
+	४

६	२
+	३

५	४
+	८

४	१
+	९



$$२७ + ८ = \square \quad ८ + \square = १४ \quad ६७ + ३ = \square$$
$$\square + ९ = १६ \quad ५४ + ९ = \square \quad ४९ + २ = \square$$

