



चित्रात दाखवलेली संख्या



चित्रात दाखवलेल्या संख्या, चौकटीत कशा लिहिल्या आहेत, हे पाहा.

दशक	एकक
१	२
बारा	

दशक	एकक
२	६
वीस आठ	

दशक	एकक
४	७
चाळीस सात	

चित्रांमधील संख्या अंकांत आणि शब्दांत लिही.

दशक	एकक

दशक	एकक

दशक	एकक

रिकाम्या जागी योग्य संख्या शब्दांत लिही.

दशक	एकक
वीस सहा	



दशक	एकक

दशक	एकक





विचार कर :



* वस्तुंवरून संख्या मोज आणि खालील वर्तुळात लिही.

दशक	एकक
	
३	४



दशक	एकक
	



दशक	एकक
	



* संख्या वाच आणि तेवढ्या वस्तू दाखव. (दशकदांडे-सुटे, काड्यांचे गठ्ठे-सुटे)

३९

दशक	एकक



४१

दशक	एकक

२२

दशक	एकक

संख्येतील अंकाची स्थानिक किंमत

तीस सात	
	
३	७

३७

दोन अंकी संख्या समजून घेताना आपण दशकाच्या घरात दहाचे गठ्ठे किती आहेत व एकक किती आहेत हे पाहिले.

उदाहरणार्थ : ३७ मध्ये दशकाच्या घरात ३ गठ्ठे तर एककाच्या घरात ७ सुटे आहेत.

