




संख्यांच्या जगात

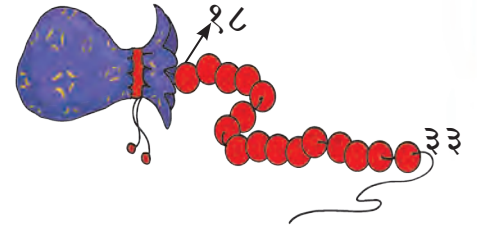
* चला १ ते १०० संख्यांचा तक्ता पूर्ण करूया.

१			४		६		८		१०
	१२	१३		१५		१७		१९	
२१			२४		२६		२८		३०
	३२			३५		३७		३९	
४१		४३	४४				४८		५०
	५२		५४		५६			५९	
		६३		६५			६८		७०
	७२				७६			७९	
८१			८४			८७			९०
	९२			९५			९८		१००


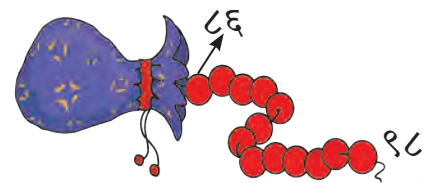
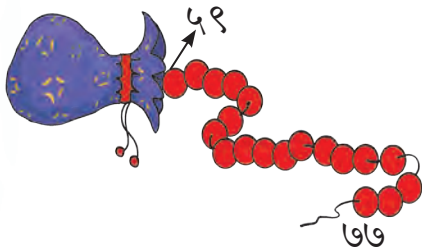
फुलपाखरांच्या पंखांवरील वेगवेगळ्या संख्या वाचून बघूया.



शेजारी संख्यांची एक माळ दिली आहे. माळेच्या टोकांवरील संख्या पाहा. त्या संख्यांमधील सर्व संख्या क्रमाने, म्हणजेच ओळीने म्हणून दाखव.



खालील माळांचे निरीक्षण कर व त्यांतील मधल्या सर्व संख्या म्हणून दाखव.



१ पासून १०० पर्यंतची कोणतीही संख्या लिहिलेले कार्ड दाखवून संख्यावाचन घ्यावे.

