


## आओ धारिता नापें

\* जिस बर्तन में अधिक पानी आता है उसके नीचे दिए गए चौखट को रंगो ।



यश और रमा रसोईघर से अलग-अलग बर्तन लेकर आए । उनके पास एक मग, एक बाल्टी, एक गिलास था ।

उन्होंने यह सारे बर्तन एक  का उपयोग कर पानी से भरा ।




यश : रमा बताओ, किस बर्तन में सबसे अधिक पानी भरेगा ?

रमा : .....

अब तुम बताओ, किस बर्तन में सबसे कम पानी भरेगा ?





यश : .....



उपर्युक्त की तरह अलग - अलग प्रकार के बर्तन का उपयोग करके कृति करवाएँ ।



**आओ कृति करें :** तुम अपने रसोईघर से अलग - अलग प्रकार के बर्तन जमा करो । यह सभी बर्तन पानी से भरने के लिए एक ही कटोरे का प्रयोग करो । प्रत्येक बर्तन में कितने कटोरी पानी भरेगा इसका अंदाज लगाओ और फिर स्वयं पानी भरकर अपने अनुमान की जाँच करो ।

कौन-सा बर्तन भरा ?	इसे भरने के लिए अंदाज से कितने कटोरी पानी लगेगा ?	इसे भरने के लिए प्रत्यक्ष कितने कटोरी पानी लगा ?
		
		
		
		

**कृति :**

खाँसी की दवा की बोतल के साथ छोटी-सी प्लास्टिक की कटोरी मिलती है । उस कटोरी से दवा नापते हैं ।

एक गिलास या एक कप लो और देखो छोटी कटोरी से कितना पानी भरेगा ।

