


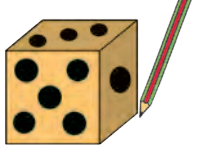


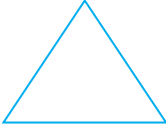




आओ भूमितीय आकृतियाँ पहचाने

* चित्र में दिखाए अनुसार वस्तुओं के चारों ओर पेंसिल घुमाकर आकृति बनाओं ।
आकृति की भुजाओं का निरीक्षण करो एवं बनायी गयी आकृति का नाम पढ़ो ।

			
			
यह आयत है । आयत के भुजाओं की संख्या ४ है ।	यह वृत्त है इसका एक ही वक्र कोर है सरल रेखा एक भी नहीं है ।	यह त्रिभुज है । त्रिभुज की भुजाओं की संख्या ३ है ।	यह वर्ग है । वर्ग के भुजाओं की संख्या ४ है ।

नीचे कुछ मनोरंजक कृति दी गई है । उसे करके देखो ।

- * कृति १ : कागज की एक नाव बनाओ । उसे खोलने पर कितने त्रिभुज और कितने चतुर्भुज बने, गिनो । उनमें से कोई भी दो त्रिभुज और दो चतुर्भुज रंगो ।
- * कृति २ : माचिस की तीलियों से या छोटी लकड़ी की पट्टियों से चतुर्भुज एवं त्रिभुज बनाओ ।
- * कृति ३ : खेल के किन - किन साधनों में त्रिभुज, चतुर्भुज और वृत्त के आकार दिखते हैं इन्हें ढूंढो ।
- * कृति ४ : त्रिभुज, चतुर्भुज एवं वृत्त इन आकारों से मनोरंजक चित्र बनाओ और रंगो ।



व्यवहार में विभिन्न वस्तु का प्रयोग करके आकृति बनाने का अभ्यास कराएँ । विद्यार्थियों को मुक्तहस्त आकृति बनाने का अभ्यास करने के लिए कहें ।

